



بنك أسئلة الصف السابع الكويت والوطن العربي ٢٠٢٠م إعداد معلمات النخبة

□ رئيسة القسم: جليلة الدغيم

اكمل التالي :

١. يمتد الوطن العربي ضمن قارتي آسيا و أفريقيا .
٢. اللغة الرسمية للدول العربية تسمى اللغة العربية .
٣. الدين الذي يجمع الدول العربية هو الدين الاسلامي
٤. يضم الوطن العربي ٢٢ دولة عربية .
٥. تبلغ مساحة الوطن العربي ١٣.٥٠٠ مليون / كم .
٦. دولة عربية تتكون من اتحاد ٤ جزر تسمى جمهورية جزر القمر وعاصمتها تسمى موروني .
٧. انضمت جمهورية جزر القمر الى جامعة الدول العربية ١٩٩٣
٨. تمثل مساحة الوطن العربي من جملة مساحة العالم حوالي ١٠٪
٩. أكبر الدول العربية في الجناح الآسيوي هي السعودية وأصغرهم هي البحرين
١٠. أكبر الدول العربية في الجناح الأفريقي هي الجزائر وأصغرهم هي جزر القمر.
١١. ينفصل الجناح العربي الآسيوي عن الجناح العربي الأفريقي عن طريق البحر الأحمر
١٢. المسطح المائي الذي يحده الوطن العربي من الغرب يسمى المحيط الأطلسي
١٣. يقع الوطن العربي بالنسبة لقارة افريقيا شمال وشمال شرق قارة إفريقيا
١٤. أكثر أشكال التضاريس في الوطن العربي انتشارا هي الهضاب.
١٥. يعتبر من اهم الأنهار في الجناح الآسيوي بالوطن العربي نهر الفرات.
١٦. مظهر تضاريسي يشغل مساحات واسعة وتغطي معظم أرجاء الوطن العربي اسمها الهضاب
١٧. تعرف حشائش الاستبس في بلاد المغرب باسم الحلفا .
١٨. يختلف نوع حشائش السافانا حسب كمية الأمطار.
١٩. من اهم مصادر المياه في الوطن العربي وتتميز بأنها مياه عذبة فصل تسمى الأنهار
٢٠. تكثر الآبار الجوفية في المناطق الصحراوية عند الواحات
٢١. الكويت أكثر الدول في نسبة استخدام للمياه المحلاة وتبلغ ٥٥٪
٢٢. أكثر الدول إنتاجا للمياه المحلاة هي السعودية
٢٣. تعتبر الأهرامات مظهر من مظاهر الحضارة المصرية القديمة
٢٤. عرفت الكتابة المصرية القديمة باسم الهيروغليفية
٢٥. اخترع السومريون نوعا من الكتابة عرفت باسم الكتابة المسمارية
٢٦. من أقدم أنواع الكتابة في العالم وحروفها تشبه المسمار تسمى الكتابة المسمارية
٢٧. اهم الأعمال الشهيرة للملك الموجود في شكل (أ) الذي امامك ما يسمى بشريعة حمورابي
٢٨. أشهر ملوك سبأ الملكة بلقيس
٢٩. ظهرت شرائع قانونية قديمة من أهمها شريعة حمورابي في بلاد الرافدين
٣٠. الخط الذي كانت تكتب به الأبجدية في حضارة جنوب غرب شبه الجزيرة العربية هو المسند
٣١. يحده حضارة جنوب غرب شبه الجزيرة العربية من جهة الغرب البحر الاحمر
٣٢. من أهم معالم دولة سبأ هو سد مأرب
٣٣. سيطرت على بلاد الرافدين خلال تاريخها القديم خمسة شعوب
٣٤. عرفت حضارة اليمن الابجدية وكانت تتكون من (٢٩) حرف
٣٥. أشهر ملوك سبأ وورد ذكرها في القرآن (بلقيس)
٣٦. اشتهر سكان جنوب غرب شبه الجزيرة العربية بالمشاريع الزراعية
٣٧. قامت دلمون وسط حضارات الشرق القديم وكانت تسمى قبل الفتح الإسلامي باسم أوال .
٣٨. يطلق اسم بلاد الرافدين أو بلاد ما بين النهرين على دولة عربية تسمى العراق
٣٩. الورق المستخدم في الكتابة عند المصريين يسمى ورق البردي
٤٠. نزل القرآن الكريم على سيدنا محمد صلى الله عليه وسلم عام ٦١٠ م في مكة المكرمة
٤١. الكتاب الذي تكفل الله سبحانه وتعالى بحفظه من التحريف والتغيير يسمى القرآن الكريم
٤٢. يمتد القسم الأكبر من الوطن العربي في القسم الغربي (الجناح الأفريقي)



شكل (أ)

عرف التالي:

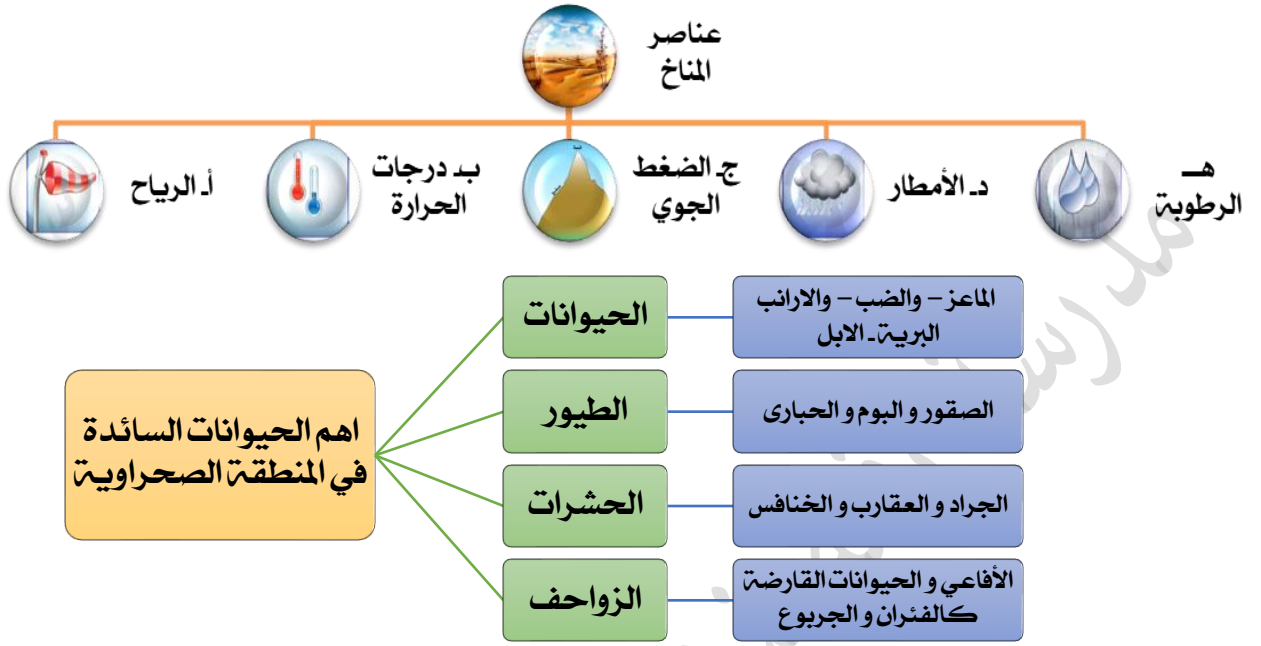
١. الوطن العربي : مجموعة الدول العربية التي يجمعها السمات المشتركة مثل الدين واللغة ويمتد ضمن اكبر قارتين آسيا وافريقيا
٢. المسطحات المائية : جميع أشكال المياه على سطح الأرض مثل المحيطات و البحار ...)
٣. القناة مجرى مائي صناعي ضيق يشق لأغراض الري والنقل.
٤. المضيق : ممر مائي ضيق يصل بين بحرين أو محيطين أو أي مساحتين كبيرتين نسبيا من الماء .
٥. الموقع الاستراتيجي للوطن العربي : هو أي موقع ذات مكانة مهمة بين دول العالم
٦. الموقع الفلكي : هو نقطة من الكرة الارضية يتحدد موقعها بالنسبة لدوائر العرض و خطوط الطول.
٧. الموقع النسبي : موقع الدولة بالنسبة لليابسة والماء .
٨. خطوط الطول ودوائر العرض : هي عبارة عن خطوط وهمية طولية وعرضية ترسم على مجسم الكرة الأرضية وعلى الخرائط .
٩. السهول الفيضية (النهرية) : هي الأراضي المنخفضة التي تكونت من التربة التي حملتها مياه الأنهار
١٠. السهول الساحلية : هي الأراضي المنبسطة التي تجاور سواحل البحار والمحيطات
١١. الضغط الجوي : وزن الهواء فوق أي مكان .
١٢. الإقليم : يعني منطقة أو مكان
١٣. النبات الطبيعي : النبات الذي ينمو تلقائيا لسقوط الأمطار دون أن يتدخل الإنسان في نموه.
١٤. النهر : مجرى مائي عذب ينحدر على الدوام لينتهي الى البحر أو الى نهر آخر أو ينتهي تدريجيا في الصحراء
١٥. المياه الجوفية : هي المياه التي توجد في جوف الأرض (باطن الأرض)
١٦. الأفلاج : الماء الجاري (وهو مجرى صغير مائي في الأرض)
١٧. البحيرة : مسطح مائي تحيط به اليابسة من جميع الاتجاهات
١٨. الحضارة : كل ما يطرأ على المجتمع من تقدم وتطور ورقي في جميع نواحي الحياة الدينية والسياسية والاقتصادية والاجتماعية والفكرية
١٩. البعث والخلود : عودة الروح للجسد بعد الموت
٢٠. الديانة اليهودية : هي التي نزلت على سيدنا موسى عليه السلام وكتابها التوراة
٢١. الديانة المسيحية : هي التي نزلت على سيدنا عيسى بن مريم عليه السلام وكتابها الإنجيل
٢٢. الديانة الإسلامية : يعتبر الإسلام خاتم الرسالات السماوية ونزل القرآن الكريم على سيدنا محمد صلى الله عليه وسلم في مكة المكرمة

:

الرابط المشترك:

- ١- بحر العرب - البحر الأحمر - البحر المتوسط = بحار الوطن لعربي
- ٢- المحيط الأطلسي - المحيط الهندي - الخليج العربي = مسطحات مائية تطل عليها دول الوطن العربي
- ٣- الإسلامية - اليهودية - المسيحية = ديانات سماوية
- ٤- دلمون - الرافدين - المصرية = حضارات
- ٥- الحشائش □ الغابات النبات الصحراوي = الحياة النباتية

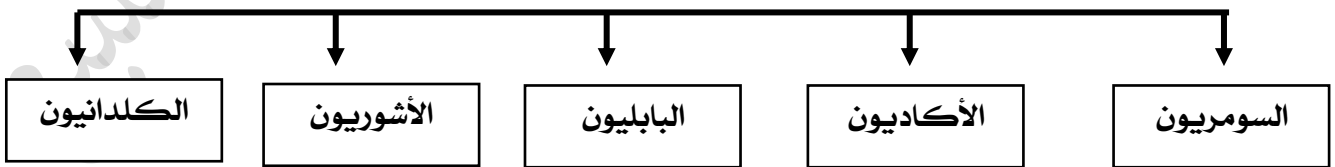
١- اكمل المخطط السهمي التالي عناصر المناخ □



مصادر المياه في الوطن العربي



أهم الحضارات التي قامت في بلاد الرافدين



انتقال الحضارة العربية الإسلامية إلى أوروبا عن طريق



| | |
|---|--|
| أكتب عن | |
| ١/ مقومات الهوية العربية | ١- أ. الدين بد اللغة ج. الأهداف المشتركة د. وحدة التراث |
| ٢/ الهضاب في الوطن العربي | أ. هضبة شبة الجزيرة العربية وبلاد الشام بد (الصحراء الكبرى) ج. الشطوط |
| ٣/ جبال الوطن العربي | أ. جبال أطلس بد جبال مرة ج. جبال عسير د. جبل قاسيون |
| العوامل التي تؤثر في مناخ الوطن العربي | أ. الموقع بالنسبة لدوائر العرض بد القرب أو البعد من المسطحات المائية ج. التضاريس د. الرياح |
| العوامل التي تؤثر في النبات الطبيعي في الوطن العربي | أنوع التربة بد المناخ |
| العلوم والفنون التي برعوا فيها المصريون القدماء | الفلك - النحت - التحنيط - الكيمياء - البناء |
| الحيوانات السائدة في المنطقة الصحراوية | حيوانات الابل - الماعز - الارانب - الضب الطيور الصقور - البوم - الحباري الحشرات الجراد - العقارب - الخنافس الزواحف الافاعي والحيوانات القارضة الفئران والجربوع |
| طرق المحافظة على ثروة المياه والتخفيف من المشكلة: | ١- ترشيد استخدام المياه والحد من التبذير في المنازل ٢- الحد من هدر المياه في عمليات الري وذلك باستخدام الوسائل الحديثة كالرش بالتنقيط والمحوري ٣- تنظيم عملية الاستفادة من المياه الجوفية ومنع تسرب الأملاح الملوثة إليها واستثمارها على الوجه الأمثل. ٤- تطوير استعمال مياه الصرف الصحي المعالجة في الزراعة ٥- إقامة البحيرات والسدود لتجميع مياه الأمطار والسيول للاستفادة منها في فصل الجفاف ٦- توقيع اتفاقيات مع الدول المشاركة ودول المنبع لتحقيق مصالح الدول العربية المعنية. |
| صفات الأمطار في الوطن العربي: | ١ - تذبذب كمية الأمطار بين عام و آخر ، كما انها تسقط في أيام معدودة . (مذبية) ٢ - الأمطار في الوطن العربي تكاد ان تقتصر على الأطراف الشمالية و الأطراف الجنوبية منها . (تسقط بالأطراف) ٣ - تتصف الأمطار بأنها قليلة بصفة عامة . (قليلة) ولا يستثنى من ذلك سوى المناطق التي تقع من ورائها الجبال كما هو الحال في سواحل المغرب و ساحل لبنان . |
| أشكال مصادر المياه الجوفية | الأبار - الأفلاج - العيون - الينابيع |
| وسائل مقاومة النبات الصحراوية للجفاف | ١ . جذوره طويلة . ٢ . القدرة علي خزن المياه . ٣ . تحمي نفسها بلحاء سميك واوراق ابريه . |
| أنواع الحياة النباتية في الوطن العربي؟ | أ. الغابات بد الحشائش ج. النباتات الصحراوية |
| عدد طرق الاستفادة من مياه البحار التي تتبعها الدول التي تقل فيها مصادر المياه العذبة مثل دول الخليج العربية و ليبيا | أ. الاستفادة من مياه البحار المالحة بعد تحليتها ، أنشأت محطات كبيرة للتحلية مياه البحر . |
| استخدامات الغابات المدارية | تستخدم اخشابها في البناء و صناعة الأثاث |
| الجهود التي قام بها سكان بلاد الرافدين في مجال الزراعة أو ما العوامل التي ساعدت على قيام الزراعة في بلاد الرافدين | أ/ أقاموا السدود علي الأنهار / وجففوا المستنقعات واستصلحوا الأراضي |
| المنتجات التجارية الواردة والصادرة من والي بلاد الرافدين | الصادرات : (المنتجات الزراعية والمنسوجات الصوفية) الواردات : (المعادن والأحجار والأخشاب) |

علل □

- ١/ يتمتع الوطن العربي بموقع استراتيجي مهم .
أ/ لأنه يقع في وسط العالم ويتحكم في منافذ التجارة ب/ ويطل على عدة مسطحات مائية
يتمتع بأهمية كبيرة للملاحة والتجارة العالمية
- ٢/ الوطن العربي يملك أهمية اقتصادية .
لأنها منطقة عبور لحركة الملاحة والتجارة العالمية - لظهور النفط بكميات كبيرة الجسر الذي يربط
بين قارات العالم القديم
- ٣/ للوطن العربي أهمية حضارية وثقافية
قامت على ارض الوطن العربي حضارات عديدة - هبطت على أرضه الديانات السماوية الثلاثة
- ٤/ تنافس الدول الاستعمارية في الاستيلاء على الوطن العربي منذ القرن الثامن عشر الميلادي (الجغرافية)
أ- لأهمية موقع الوطن العربي الاستراتيجية ب لأنه يتحكم في منافذ التجارة العالمية
ج- يطل على ثلاث مسطحات مائية ذات أهمية للملاحة والتجارة العالمية
- ٥/ الأماكن القريبة من خط الاستواء تتميز بارتفاع درجة حرارتها على مدار أيام السنة
- بسبب القرب او البعد عن خط الاستواء / تعامد أشعة الشمس على خط الاستواء
- ٦/ ارتفاع الحرارة في وسط الوطن العربي صيفا
لان الشمس تكون عمودية على المنطقة الواقعة بين خط الاستواء ومدار السرطان
- ٧/ ارتفاع الحرارة جنوب الوطن العربي شتاء
لان الشمس تكون عمودية على المنطقة الواقعة بين خط الاستواء ومدار الجدي.
- ٨/ اذا مرت الرياح على بحار محملة ببخار الماء قد يسبب سقوط الأمطار أو ارتفاع نسبة الرطوبة
وإذا كانت تهب من منطقة جافة فإنها لا تسقط مطرا
- لان الرياح تأخذ صفة المنطقة التي تمر بها .
- ٩/ اختلاف أنواع حشائش السافانا في دول الوطن العربي .
بسبب اختلاف كمية الامطار
- ١٠/ ازدهار العديد من الحضارات الإنسانية التي استقرت في ربوع الوطن العربي
نظرا لتوافر مقومات قيام الحضارة
- ١١/ اهتمام المصريون بتحنيط الجثث وبناء المقابر
لإيمانهم بمعتقدات البعث والخلود
- ١٢/ عرف سكان بلاد الرافدين الزراعة
بسبب خصوبة تربتها وسعة سهولها ووفرة مياهها
- ١٣/ اطلق على أهل اليمن (أسياد التجارة العربية)
لأنهم سيطروا على الطرق التجارية ،
- امتدت تجارتهم بين شمال شبه الجزيرة العربية وجنوبها ،
 - وجود تبادل تجاري مع الحضارات المجاورة لها

لا قفل الا سوف يفتح
ولا قيد الا سوف يفك
ولا بعيد الا سوف يقرب
ونكسر باجل مسمى
فلا تستعجل الاقدار

١٤/ تعتبر حضارة (دلمون) مركز مهما للمواصلات البحرية.

١. لأنها تقع وسط حضارات الشرق القديم وبحكم موقعها وسط الخليج العربي
٢. تعتبر مركز ما بين البلدان المطلّة على الخليج العربي والحضارات المجاورة

١٥/ اكتساب منطقة الوطن العربي مكانة روحية مقدسة

نتيجة لوجود الديانات السماوية الثلاث التي انتشرت في انحاء العالم في الوطن العربي

١٦/ عاشت أوروبا قبل القرن ١٠ الميلادي في عصور الظلام

- بسبب سيطرة الكنيسة على عقول الشعب

دلل على صحة العبارة:

اشتهر سكان جنوب غرب شبه الجزيرة العربية بالمشاريع الزراعية

١. قاموا ببناء السدود والخزانات وأشهرها وأشهرها سد مأرب ، نظموا عمليات الري
٢. من أشهر منتجاتها الزراعية (الموز- اللبان - القرفة)

فرق بين كل من:

| | |
|---|-------------------------|
| أسس قيام الحضارة الإسلامية | مبادئ الحضارة الإسلامية |
| فالصلاة في نظامها ومواقفيتها والصوم والزكاة التي تحقق التكافل الاجتماعي | الشورى والعدل والمساواة |

فرق بين كل من المفاهيم التالية:

| | |
|--------|---|
| السهول | مساحة من سطح الأرض تتميز باستوائها وقلّة ارتفاعها . |
| الجبل | كل ما ارتفع من الأرض له قمة لا يقل عن ١٠٠٠ متر |
| الهضبة | ارض مرتفعة سطحها مستو وتمتد على مساحة كبيرة |
| التل | كل ما ارتفع من الأرض ولا يصل ارتفاعه الى ١٠٠٠ متر |

| | |
|------------------------------------|----------------------------------|
| الطقس | المناخ |
| هو حالة الجو في مكان ما لمدة قصيرة | حالة الجو خلال فترة زمنية طويلة. |

قارن بين كل من: □

١/ مناخ الوطن العربي في فصل الصيف والشتاء

| المعيار | الصيف | الشتاء |
|------------------------------|--|--|
| المنطقة التي تتعامد مع الشمس | المنطقة الواقعة بين خط الاستواء ومدار السرطان | الواقعة بين خط الاستواء ومدار الجدي |
| مميزات المناخ | وترتفع الحرارة أكثر في وسط الوطن العربي (صحراء) ومعتدلة على سواحل البحر المتوسط وشمال الوطن العربي | وترتفع الحرارة في جنوب الوطن العربي وتقل كلما اتجهنا شمالاً .. |

٢/ الغابات المدارية والمعتدلة من حيث المطلوب

| المعيار | الغابات المدارية | الغابات المعتدلة |
|-------------|--|---|
| مميزاتها | ضخامة الجذوع - متشابكة الأغصان - ارتفاعها الكبير - اوراق عريضة | عدم كثافتها - دائمة الخضرة - يتساقط بعضها في الشتاء |
| اهم الاشجار | الساج - الماهوجني والتاك والأبنوس والسدر والأثل والسنت | الأرز والعرعر والصنوبر الحلبي البلوط والسنديان اشجار الزيتون والتفاح والحمضيات والفواكه الأخرى البرية |

٣/ دوائر العرض وخطوط الطول من حيث المطلوب

| وجه المقارنة | دوائر العرض | خطوط الطول |
|-----------------------------|--|---|
| التعريف | خطوط وهمية تقسم الكرة الأرضية إلى قسمين شمال وجنوب | دوائر وهمية تقسم الكرة الأرضية إلى قسمين شرق وغرب |
| خط الأساس | الاستواء | جرينتش |
| العدد | ١٨٠ | ٣٦٠ |
| الدولة العربية التي يمر بها | الصومال | الجزائر |
| الأهمية | معرفة احوال المناخ | معرفة الوقت |

٤/ حشائش السافانا والمعتدلة من حيث المطلوب □

| المعيار | الحشائش الحارة السافانا | الحشائش المعتدلة الأستبس |
|-----------|---|--|
| التعريف | وهي حشائش طويلة ، يختلف نوعها حسب كمية الامطار وتنقسم السافانا الي : طويلة / متوسطة / قصيرة | وهي حشائش قصيرة نوعا ما ، تنمو في الشتاء خلال موسم سقوط الأمطار وتعرف في بلاد المغرب باسم الحلفا |
| الاستخدام | تربي عليها الماشية | صناعة الورق والحبال والحصر وتربي عليها الأغنام والأبل والخيول والحمير |

٥/ بين ممالك بلاد اليمن من حيث العاصمة والموقع



| الدولة | معين | سبأ | حمير |
|---------|------------|-----------|--------------|
| عاصمة | قرناو | مأرب | ريدان |
| الموقع | شمال اليمن | وسط اليمن | جنوب اليمن |
| المعالم | مدينة يثل | نقش سبأ | مائدة قرايين |

صنف الكلمات حسب مكانها في الجدول:

تركيا / المحيط الأطلسي / البحر المتوسط / ايران / الخليج العربي

| | | |
|----------------|--------|-------------------|
| البحرية | البرية | حدود الوطن العربي |
| البحر المتوسط | تركيا | الشمال |
| الخليج العربي | ايران | الشرق |
| المحيط الأطلسي | | الغرب |

الجبل الاخضر - الأحجار - جبال أطلس - جبال مره -

| الجناح الافريقي | | الجناح الآسيوي | |
|--------------------------------|---------------------------|--------------------------------|---------------------------|
| اسم الدولة التي يقع فيها الجبل | اسم الجبل | اسم الدولة التي يقع فيها الجبل | اسم الجبل |
| المغرب و الجزائر | جبال أطلس | عمان | الجبل الأخضر |
| مصر والسودان | جبال البحر الأحمر الغربية | سوريا | جبل قاسيون |
| الجزائر | جبال الأحجار | السعودية واليمن | جبال البحر الأحمر الشرقية |
| السودان | جبال مرة | لبنان | جبل الشيخ |

الخماسين - القبلي - الهوبد الطوز - الشرقية

| الدولة | العراق | الكويت | السعودية | مصر | ليبيا | السودان | الجزائر-المغرب |
|------------|---------|--------|----------------|----------|--------|---------|-------------------|
| اسم الرياح | الشرقية | الطوز | السموم - الطوز | الخماسين | القبلي | الهوبد | السيركو والسولانو |

الاحساء - رأس عبود - فنتاس - الشويخ

| الدولة | الكويت | السعودية | قطر |
|-------------------|-------------------|--------------|----------------------|
| محطة تحلية المياه | محطة الشويخ 1952م | محطة الاحساء | رأس عبود / ابو فنتاس |

ملخص مقارنة بين الحضارات

| مقومات قيام الحضرة | حضارة المصرية القديمة | حضارة بلاد الرافدين | حضارة بلاد اليمن | حضارة دلمون |
|------------------------|--|---|------------------------------------|--|
| مصادر المياه العذبة | نهر النيل | نهر دجلة والفرات | المياه الجوفية | المياه العذبة |
| توافر الثروات الطبيعية | امتداد الصحراء خصوبة التربة الصخور - المعادن | خصوبة التربة | خصوبة التربة - ووفرة المياه العذبة | خصوبة التربة - الأسماك - اللؤلؤ |
| أهم المظاهر الحضارية | الزراعة - الصناعة - تربية الماشية | الزراعة - الصناعة التجارية | الزراعة - التجارة | الزراعة / التجارة البحرية - صيد الأسماك الغوص على اللؤلؤ |
| المعتقدات الدينية | أمنو بفكرة البعث والخلود | اعتمدوا تطبيق شرائع حمورابي | | |
| العلوم والفنون | الفلك - الكيمياء - التحنيط - النحت الكتابية - البناء | الهندسة - الحساب - الفلك - الطب - فن النحت - البناء الرسم | | البناء - النحت |
| الكتابة | الكتابة الهيروغليفية | الكتابة المسمارية | الكتابة الأبجدية | |

- (الإنجيل - موسى - القرآن الكريم - عيسى - التوراة - محمد)

| الديانة • | الكتاب • | النبي • |
|------------|---------------|----------|
| الإسلام • | القرآن الكريم | محمد (ص) |
| المسيحية • | الانجيل | عيسى |
| اليهودية • | التوراة | موسى |

- حيوانات / الطيور / الحشرات / الزواحف / الحيوانات القارضة

| حيوانات | الطيور | الحشرات | الزواحف | الحيوانات القارضة |
|---------------------------------|--------------------------|----------------------------|---------|-------------------|
| الابل - الماعز - الارانب - الضب | الصقور - البوم - الحباري | الجراد - العقارب - الخنافس | الافاعي | الفئران والجربوع |

- اذكر أشهر المعالم الدينية حسب الصور في الجدول التالي

| | | |
|----------------------------------|---------------------------------------|---|
| اسم المعلم الديني المسجد الحرام | اسم الدولة : المملكة العربية السعودية |  |
| اسم المعلم الديني: المسجد النبوي | اسم الدولة: المملكة العربية السعودية |  |
| اسم المعلم الديني: المسجد الأقصى | اسم الدولة: فلسطين |  |


- صل بين كل من الصورة والاسم

| | | |
|--|--|--|
|  <input type="checkbox"/> |  <input type="checkbox"/> |  <input type="checkbox"/> |
| مسجد قرطبة <input type="checkbox"/> | جامع المنصور <input type="checkbox"/> | قصر الحمراء <input type="checkbox"/> |

- صل بين الصورة واسم الأثر الحضاري

| | | | | |
|---|---|---|--|---|
|  |  |  |  |  |
| معبد باربار | تدمر | الاهرامات | سد مأرب | اسد بابل |

ماهي دلالات الصور □



لاحظ الصورة التالية ثم أجب عما يلي:



- ١- اسم الشخصية في الصورة؟
الملك البابلي - حمورابي -
 - ٢- ما أهم ما اشتهر به؟ وما عددها؟
شرائع حمورابي / ٢٨٢ مادة قانونية
 - ٣- ما المبدأ الذي اعتمد عليه؟
((السن بالسن والعين بالعين))
 - ٤- ما أثر تطبيق الشرائع؟
أدى إلى انتشار الأمن والأمان في البلاد
- اقرأ لفقرة التالية ثم أجب على الاسئلة التي تليها :**

" اخترع السومريون نوعاً من الكتابة عرفت باسم الكتابة المسمارية وتعتبر هذه الكتابة من أقدم أنواع الكتابة في العالم وحروفها تشبه المسمار وتكتب على الواح من الطين الطري بواسطة أقلام تشبه المسامير وعدد حروفها ٦٠٠ حرف ."

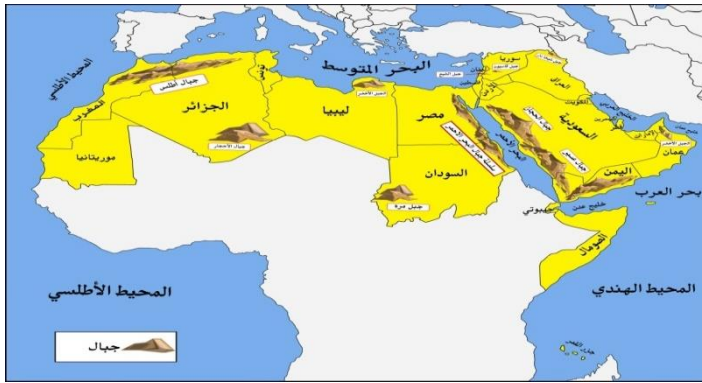
| | | | |
|---|---|---|---|
| 𐎶 | 𐎵 | 𐎴 | 𐎳 |
| 𐎲 | 𐎱 | 𐎰 | 𐎯 |
| 𐎮 | 𐎭 | 𐎬 | 𐎫 |
| 𐎩 | 𐎨 | 𐎧 | 𐎦 |
| 𐎣 | 𐎢 | 𐎡 | 𐎠 |
| 𐎷 | 𐎶 | 𐎵 | 𐎴 |
| 𐎳 | 𐎲 | 𐎱 | 𐎰 |
| 𐎮 | 𐎭 | 𐎬 | 𐎫 |
| 𐎩 | 𐎨 | 𐎧 | 𐎦 |
| 𐎣 | 𐎢 | 𐎡 | 𐎠 |

- ١- عرف ما تحته خط ؟
نوع من الكتابة اخترعه السومريون .
- ٢- ماهي الأدوات المستخدمة في الكتابة المسمارية؟
المسامير .
- ٣- كم يبلغ عدد حروفها ؟
٦٠٠ حرف

قال الله تعالى (إني وجدت امرأة تملكهم وأوتيت من كل شيء ولها عرش عظيم) النمل آية ٢٣ من هي الملكة التي ذكرت بالآية السابقة ؟ الملكة بلقيس ما أسم الملكة التي حكمتها سبأ . في أي دولة تقع : اليمن .

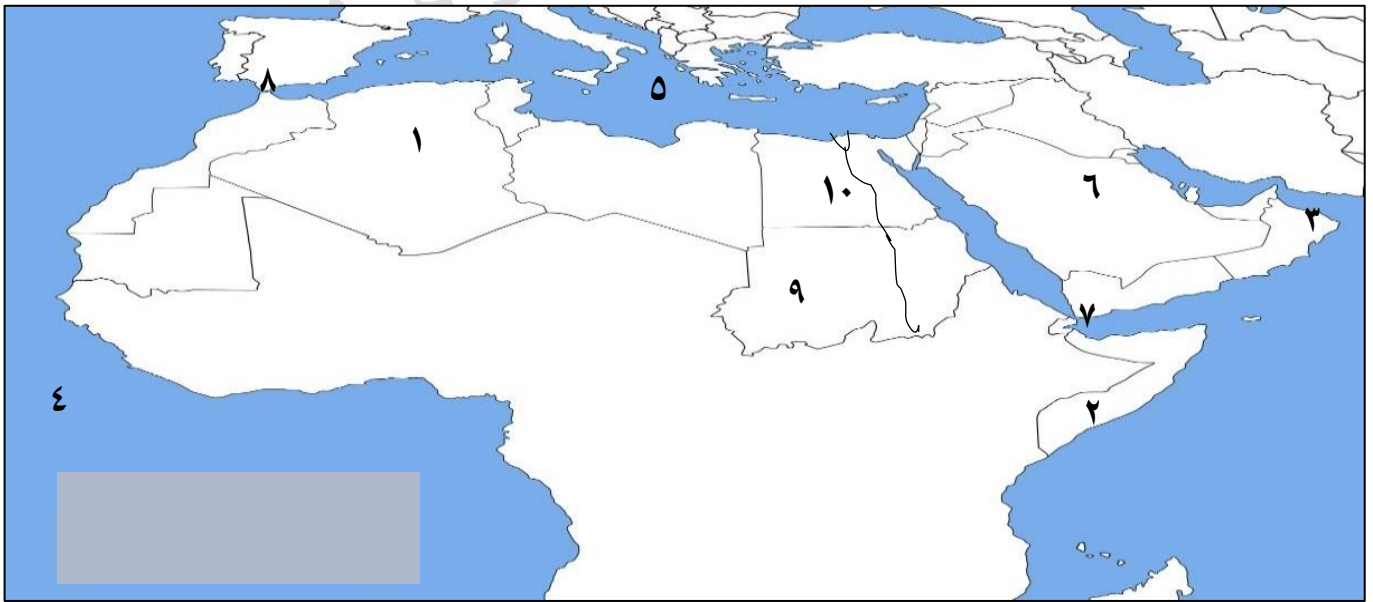
الخرائط:

أماكن الدول العربية / المسطحات المائية / أماكن الحضارات / أسماء الرياح / التضاريس



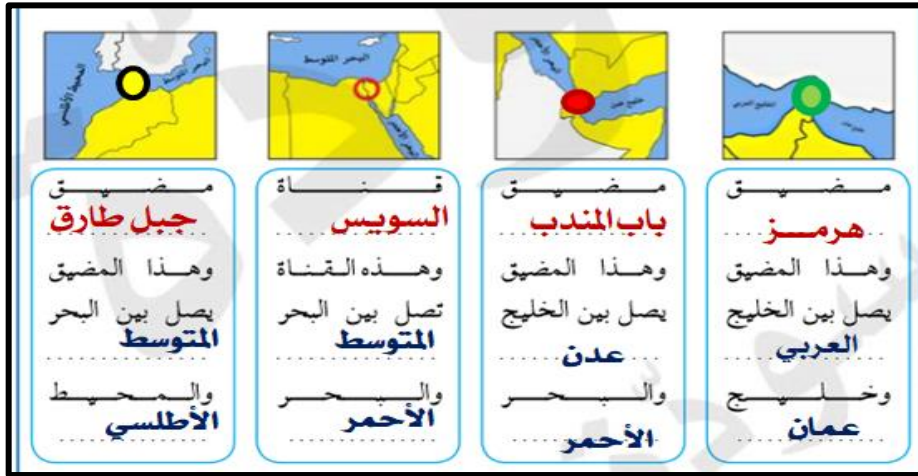
أمثله على مهارة التحديد والاستخراج من

- على خريطة الوطن العربي الصماء نفذ ما يلي .
- يشير رقم (١) إلى أكبر الدول العربية في الجناح الأفريقي تسمى .. الجزائر
 - يشير رقم (٣) إلى موقع جبل يسمى الأخضر
 - يشير رقم (٥) إلى مسطح مائي يسمى ... البحر المتوسط ..
 - يشير رقم (٧) إلى موقع مضيق يسمى . باب المندب ...
 - يشير رقم (٩) إلى موقع جبل يسمى ... مره ..
 - يشير رقم (٢) إلى دولة تسمى الصومال
 - يشير رقم (٤) إلى مسطح مائي يسمى .. المحيط الأطلسي
 - يشير رقم (٦) إلى موقع هضبة تسمى نجد
 - يشير رقم (٨) إلى موقع مضيق يسمى ... جبل طارق
 - يشير رقم (١٠) إلى موقع نهر يسمى ... النيل



للربط السريع (تجميع أهم المعلومات للدولة الواحد وتحدد على الخريطة)
 مثال مصر: (موقعها - نهر النيل - قناة السويس - الحضارة المصرية القديمة - رياح الخماسين
 السودان (موقعها - رياح الهبوب - جبال مرة - دولة عربية تم تقسيمها حديثاً)
 اليمن (حضارة بلاد اليمن - سد مأرب)





| اهم الانهار في الوطن العربي في الجناح الافريقي | |
|--|----------------------------|
| اسم النهر | الدول العربية التي يمر بها |
| النيل | مصر / السودان |
| جوبا / شيلي | الصومال |
| مجردة | تونس |
| الشليف | الجزائر |
| أم الربيع / وسوس / ابو رقراق / سبو | المغرب |

| اهم الانهار في الوطن العربي في الجناح الاسيوي | |
|---|----------------------------|
| اسم النهر | الدول العربية التي يمر بها |
| دجلة والفرات | العراق / سوريا |
| نهر العاص | سوريا / لبنان |
| نهر الاردن | الاردن / بلاد الشام |

| اهم السهول في الوطن العربي في الجناح الافريقي | | |
|---|--------|---|
| اسم السهل | نوعه | الدول التي يقع فيها السهل |
| سهول نهر النيل | فيضيه | مصر والسودان |
| سهول نهري جوبا وشيلي | فيضيه | الصومال |
| سهل نهر مجردة | فيضيه | تونس |
| نهر الشليف | فيضيه | الجزائر |
| سهل نهر ام الربيع - نهر السوس - نهر ملوية | فيضيه | المغرب |
| سهول البحر الأحمر الغربية | ساحلية | السودان و مصر والصومال |
| المحيط الاطلسي | ساحلية | المغرب وموريتانيا |
| سهل البحر المتوسط | ساحلية | سوريا و لبنان وفلسطين المحتلة ومصر وليبيا و تونس والجزائر والمغرب |

| اهم السهول في الوطن العربي في الجناح الاسيوي | | |
|--|--------|---------------------------|
| اسم السهل | نوعه | الدول التي يقع فيها السهل |
| سهول دجلة والفرات | فيضيه | العراق |
| نهر العاص | فيضيه | سوريا / لبنان |
| نهر الاردن | فيضيه | الاردن |
| سهل الخليج العربي | ساحلية | دول الخليج العربية |
| سهل المحيط الهندي | ساحلية | الصومال / جزر القمر |
| سهل البحر الأحمر الشرقية | ساحلية | الاردن والسعودية واليمن |